



پیک آدینه‌ی گراد

۲

پایه دوم دبستان

فعالیت‌های
پایان هفته

- بودجه بندی محتوایی سالانه
- بودجه بندی هفتگی و ماهانه
- ارزشیابی درس به درس
- همراه با پاسخنامه آنلاین

هدیه های آسمان، قرآن، ریاضی، علوم، فارسی، مطالعات اجتماعی، سرگرمی

خلاصه ای از تمام فصل های کتاب



هدیه‌های آسمان: صفحه‌ی ۱۲ تا ۱۵ درس ۱
ریاضی: صفحه‌ی ۲ تا ۴ یادآوری عدد و شمارش

قرآن: صفحه‌ی ۲ تا ۶ درس ۱
فارسی: صفحه‌ی ۲ درس ستایش
علوم: صفحه‌ی ۱۲ تا ۱۵ درس ۱ زنگ علوم

نام و نام خانوادگی:

دبستان:

کلاس:



۱) فرزندم، معنی یک پیام قرآنی از کتاب قرآن کلاس اول خود را که به یاد داری بنویس.

.....

۲) عزیزم در جدول زیر، برای حروف الفبا با رنگ قرمز حرکت بگذار و آن‌ها را برای خانواده ات بخوان.



ا	ا	ا	ا	ا	ا	ا	ا	ا
ذ	ذ	ذ	ذ	ذ	ذ	ذ	ذ	ذ
ع	ع	ع	ع	ع	ع	ع	ع	ع
ط	ط	ط	ط	ط	ط	ط	ط	ط



خیلی خوب خوب قابل قبول نیاز به تلاش بیشتر



۱) فرزندم، دو نمونه از نعمت‌های خداوند را بنویس یا نقاشی کن.



۲) در شعر زیر به کدام یک از نعمت‌های خدا اشاره شده است.

خدایا! آفتاب و آب از توست ستاره، آسمان، مهتاب از توست.

۳) فرزندم، خودت را در آینه نگاه کن به نظرت خداوند چه نعمت‌هایی را در بدن تو قرار داده است، چند نمونه را بنویس.

.....

۴) بیشترین هدیه از طرف چه کسی به شما داده شده است؟

الف) دوستان ب) امامان ج) خداوند د) پیامبران



خیلی خوب خوب قابل قبول نیاز به تلاش بیشتر



۱ فرزندانم، دور کلمات درست خط بکش.

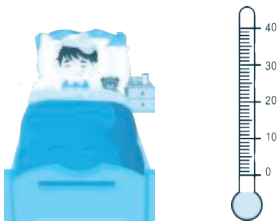
الف) آن قسمت از زمین که $\frac{9}{12}$ به خورشید است روز است. پشت

ب) زمین در هر $\frac{12}{24}$ ساعت یک بار به دور خودش می چرخد.

ج) گردش زمین $\frac{24}{24}$ به دور خودش باعث ایجاد شب و روز می شود. خورشید

د) گرم و سرد شدن زمین توسط خورشید به صورت آرام و آهسته تند و سریع صورت می گیرد.

۲ محسن به علت بیماری تب دارد. دمای بدن او ۳۸ درجه می باشد. شما درجه ی دمای بدن او را روی دماسنج نشان دهید.



۳ چه مدت طول می کشد تا زمین یک بار به دور خود بچرخد؟

الف) یک فصل ب) یک سال ج) یک شبانه روز د) یک هفته

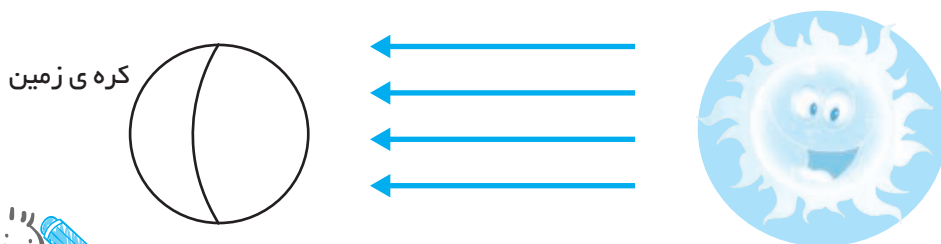
۴ برای اندازه گیری گرمی و سردی از چه وسیله ای استفاده می شود؟



۵ عزیزم، به نظرت در کدام یک از تصاویر زیر مایع دماسنج می تواند مربوط به ساعت ۲ بعد از ظهر باشد؟




۶ با توجه به محل قرار گرفتن خورشید، شب و روز زمین را مشخص کرده و رنگ کن.



خیلی خوب خوب قابل قبول نیاز به تلاش بیشتر

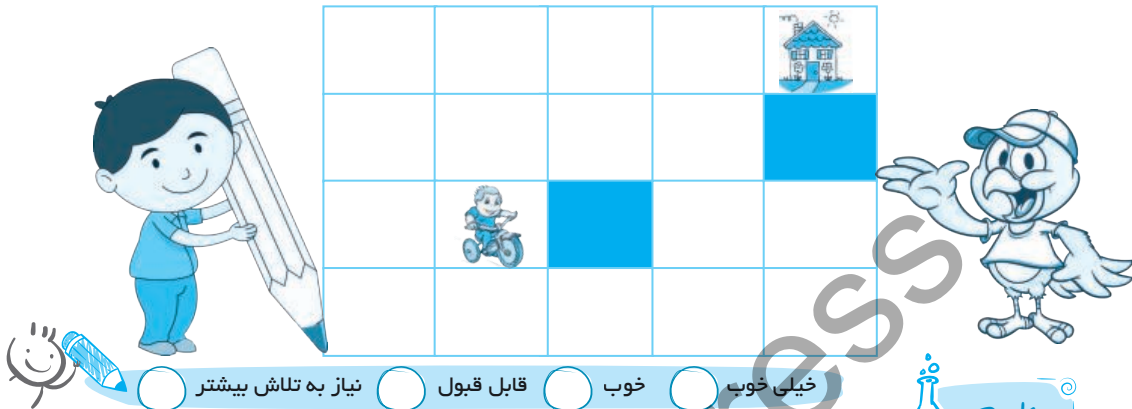




الف) حالا چند شاخه ی گل باقی مانده است؟

ب) دسته گل جدید چند شاخه گل دارد؟

۶) با کشیدن یک خط بدون این که از روی خانه های سیاه عبور کنی دوچرخه سوار را به خانه برسان، به شرط آن که از تمام خانه های سفید عبور کرده باشی.




خیلی خوب خوب قابل قبول نیاز به تلاش بیشتر



علوم

۱) عزیزم، کدام یک از تصاویر زیر، نحوه ی مصرف درست آب را نشان می دهد؟ علامت بزن.



۲) جاهای خالی را کامل کن.

الف) انسان ها برای ذخیره کردن آب برف و باران از استفاده می کنند.

ب) ماده ی ضد عفونی کننده در تصفیه ی آب است.

ج) گذراندن آب از دومین مرحله ی تصفیه ی آب است.

۳) فرزندم، اگر روزی آب منزل شما قطع شود و آب ذخیره ی شما یک بطری باشد، شما ابتدا آب را برای کدام یک از موارد زیر استفاده می کنید؟



الف) شستن سبزی ب) حمام کردن

ج) آب دادن به گل تشنه د) نوشیدن آب

۴) مهسا دیروز در پارک هنگام انداختن شیشه ی خالی آب در سطل زباله علامت

را دید. به نظرت این علامت نشانه ی چیست؟



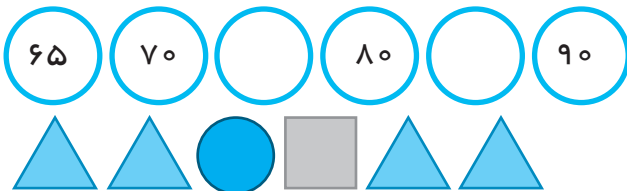
خیلی خوب خوب قابل قبول نیاز به تلاش بیشتر




۱ عدد دو رقمی بنویس که یکانش ۸ و دهگانش ۷ تا کمتر از یکانش باشد.




۲ الگوها را ادامه بده.



۳ فرزندهم، برای شکل زیر یک مسئله بنویس.



۴ کلمه درستی و نادرستی گزینه های زیر را مشخص کن.



الف) عدد ۴۵ با حروف، به صورت پنجاه و چهار نوشته می شود.

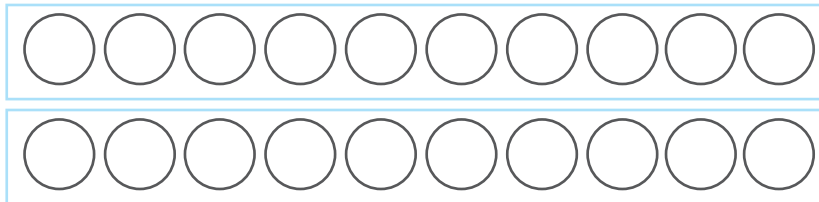
ب) ۵۲ برابر است با ۲ ده تایی و ۵ یکی.

ج) عدد قبل از ۶۰، ۵۹ می باشد.

د) با رقم های ۲ و ۴ فقط می توان دو عدد دو رقمی نوشت.

۵ دیروز محمد برای دوستانش از بازار ۵ توپ قرمز، ۶ توپ آبی و ۴ توپ سفید خرید. او روی هم

چند توپ برای دوستانش خریده است. (با رنگ کردن شکل)



خیلی خوب خوب قابل قبول نیاز به تلاش بیشتر



۲ هر یک را به گزینه‌ی مرتبط با آن وصل کن.

آداب اسلامی قبل از غذا

آداب اسلامی بعد از غذا

- شستن دست‌ها با آب و صابون
- کمک و همکاری در پهن کردن سفره
- شکر خدا و دعا برای گرسنگان
- دور نریختن باقی مانده‌ی غذا
- شروع غذا خوردن با نام خدا
- مسواک زدن با یک لیوان آب



خیلی خوب خوب قابل قبول نیاز به تلاش بیشتر

فارسی

۱ پنج کلمه از متن «روباه و خروس» و «نیایش» پیدا کن که تشدید داشته باشد؛ بنویس.



۲ یک جمله برای تشکر از معلم مهربان بنویس که در آن از سه کلمه‌ی زیر استفاده شده باشد.

«مهربان - تشکر - معلم»



خیلی خوب خوب قابل قبول نیاز به تلاش بیشتر

ریاضی

۱ با توجه به رقم یکان، اعداد فرد را رنگ بزن. سپس اعداد فرد را با اضافه کردن یک

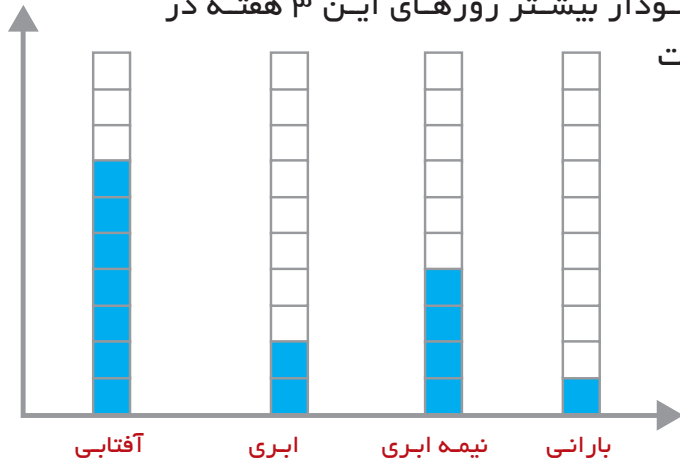
رقم به عدد زوج تبدیل کن و بنویس.



۸۸	۹۳	۵۴	۷۲	۴۱	۲۳	۷۰
<input type="text"/>	<input type="text"/>	<input type="text"/>	<input type="text"/>	<input type="text"/>	<input type="text"/>	<input type="text"/>



۱ نمودار زیر وضعیت آب و هوای شهرستان سبزوار را در ۳ هفته ی اردیبهشت ماه نشان می دهد. با توجه به این نمودار بیشتر روزهای این ۳ هفته در این شهرستان، هوا چگونه بوده است

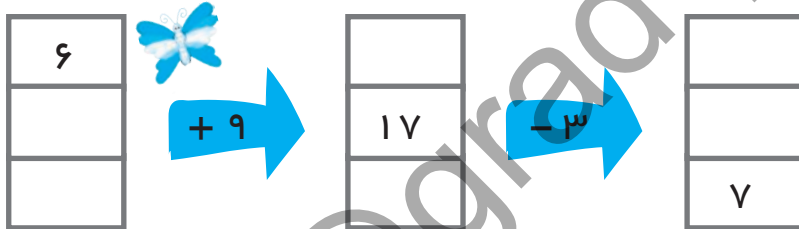


۲ کلم، شکل زیر را به دو روش دسته بندی کن و بنویس.

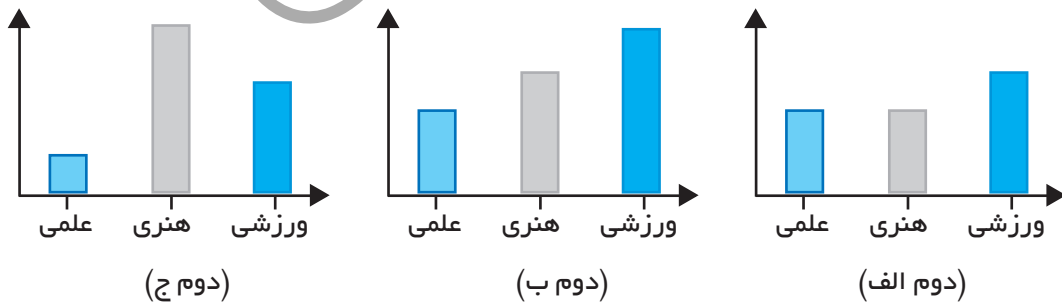
..... تا تایی می شود

..... تا تایی می شود

۳ جاهای خالی را کامل کن.



۴ در دبستان معراج نمودار شرکت کنندگان کلاس دوم در هر رشته از مسابقات به صورت زیر آورده شده، با توجه به نمودارها به سوالات پاسخ دهید.



الف) بیشترین شرکت کننده ی ورزشی در کدام کلاس بوده است؟

ب) کمترین شرکت کننده ی هنری مربوط به کدام کلاس است؟

ج) در کدام کلاس تعداد شرکت کنندگان هنری و علمی با هم برابر است؟



خیلی خوب خوب قابل قبول نیاز به تلاش بیشتر



۱ یکی از فایده های خمیر کردن با دستگاه در زیر آمده است. شما یک مورد دیگر را بنویس.



مصرفه جویی در زمان.

.....

۲ در تصویر زیر چه کاری انجام می شود؟

از چه روشی استفاده می شود؟



۳ مردم در ایران به نان سنگگ علاقه ی زیادی نشان می دهند، فکر می کنی چرا؟



.....

.....

.....



خیلی خوب خوب قابل قبول نیاز به تلاش بیشتر



۳ در جدول زیر تعداد دانش آموزان علاقمند به رشته های مختلف در یک کلاس با چوب خط نشان داده شده است. جدول را کامل کرده و به سوالات پاسخ دهید.

تعداد	چوب خط	رشته های مسابقات
	//// // /	هنری
	//// // //	ورزشی
	////	قرآنی
	//// //	کتابخوانی
	///	نمایش



- الف) تعداد علاقمندان به کدام رشته بیشتر است؟
 ب) کدام رشته تعداد علاقمندان کمتری دارد؟
 ج) تعداد کل دانش آموزان این کلاس چه قدر است؟



- خیلی خوب خوب قابل قبول نیاز به تلاش بیشتر




۱ ماده ی اصلی برای تهیه ی نان کدام است؟



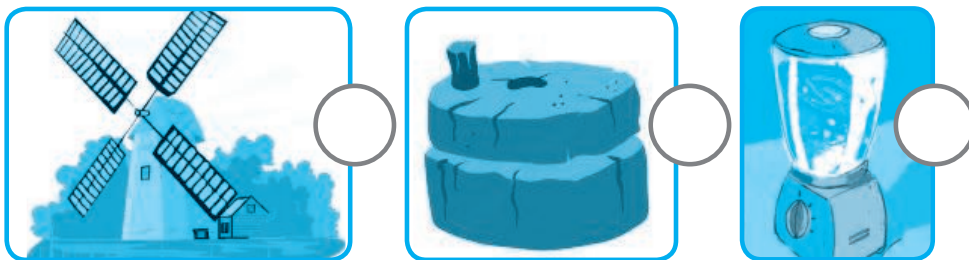
-

۲ گلم، سومین مرحله ی تهیه ی نان را علامت بزن.



-

۳ انواع آسیاب ها را از قدیم به جدید به ترتیب شماره گذاری کن.



- خیلی خوب خوب قابل قبول نیاز به تلاش بیشتر



۲ عبارات مرتبط به هم را به یک دیگر وصل کن.

راضی بودن خدا از ما

خوش بخت شدن

پشت سر هم دروغ گفتن

نتیجه های دروغگویی

فایده های راست گویی

دیگران ما را دوست دارند

بی اعتمادی دیگران به ما

خجالت کشیدن



۳ عزیزم، تصویر زیر شما را به یاد چه داستانی می اندازد؟

فکر می کنی این داستان چه ارتباطی با این درس دارد؟



خیلی خوب خوب قابل قبول نیاز به تلاش بیشتر



۱ با توجه به کلمات « آرام آرام - دوان دوان - شمرده شمرده » جاهای خالی را کامل کن.

الف) قطره ها بخار شدند و بالا رفتند.

ب) عرفان به خانه آمد.

ج) رضا حرف می زند.

۲ فرزندانم، کلمات به هم ریخته را مرتب کن.

پراکنده شدند - به - آب - اطراف - قطره های

دوستانم - باریکند - خیلی از - روی کوه - و صحرا - و جنگل

۳ دسته بندی کن.

سیب - کفش - روسری - شربت - شکلات - شال - جوراب - نان - شلوار - برنج - ژاکت - چای

	خوردنی
	پوشیدنی



خیلی خوب خوب قابل قبول نیاز به تلاش بیشتر



۲ عزیزم، شعر زیر در مورد راست گویی است، آن را بخوان.



فرزند راست گوی من گل های بهاری تقدیم به شما
 اتل مثل توتوله
 بچه ی خوب چه جوره
 دروغ یه کار زشته
 آدمی که راست می گه
 جاش میون بهشته



خیلی خوب خوب قابل قبول نیاز به تلاش بیشتر



۱ به کلمات زیر «نا» اضافه کن و معنی آن ها را بنویس.

امید ←

آرام ←

۲ کلمه، با توجه به درس پرواز قطره جدول را کامل کن.



کلماتی که «نا» دارند.	کلماتی که «ط» دارند.	کلماتی که «ص - ص» دارند.
.....
.....
.....

۳ دو جمله از زبان قطره از متن درس پیدا کن و بنویس.

.....

.....

۴ هم معنی کلمات زیر را از متن درس پرواز قطره پیدا کن و بنویس.

غمگین =

احتیاج =

آهسته آهسته =

زیبا =



خیلی خوب خوب قابل قبول نیاز به تلاش بیشتر



۳ عزیزم، با توجه به درس «وقت نماز» دور کلمات درست خط بکش.


الف) در شبانه روز دو بار با خدا گفت و گو می کنیم.

ب) نماز ظهر پنج بار نماز صبح دو رکعت است.

ج) در هنگام ظهر خورشید وسط آسمان است. کنار

د) تا غروب آفتاب وقت داریم نماز ظهر و عصر را بخوانیم. طلوع

۴ زمان نمازها را به صورت تصویری و نوشتاری کامل کن.



وقت نماز صبح



خیلی خوب خوب قابل قبول نیاز به تلاش بیشتر



۱ جواب درست را از داخل شکوفه های بهاری پیدا کن و جاهای خالی را کامل کن.

الف) نوروز، آغاز فصل سر سبزی و زیبایی های است.

ب) روز اول فروردین، روز سال نو است.

ج) جشن نوروز باعث ما می شود.

د) به سفره ای که برای تحویل سال می چینند، می گویند.

ه) به جشنی در پایان سال که در آن برای دیگران هدیه می خریم می گویند.



۲ مرتب کنید.

هر سال - می آمد - بهار - عمو نوروز - روز - اول.



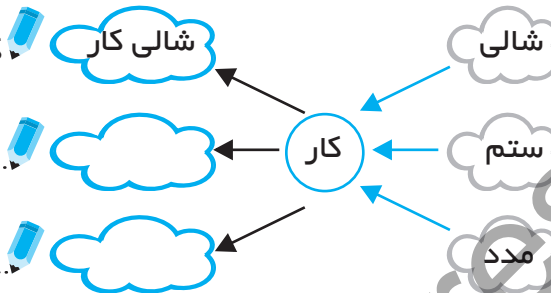
آغاز - سرسبزی - و - نوروز - فصل - است - طبیعت - زیبایی های.



ان	ها	کلمه
		ستاره
		شهید

۳ جدول را کامل کن.

کسی که برنج می‌کارد.



۴ مانند نمونه کامل کن.



خیلی خوب
 خوب
 قابل قبول
 نیاز به تلاش بیشتر

ریاضی

۱ جمع های زیر را با رسم شکل حل کن.

$$\begin{array}{r} 326 \\ + 257 \\ \hline \end{array}$$

$$\begin{array}{r} 220 \\ + 690 \\ \hline \end{array}$$

۲ مانند نمونه کامل کن.

$$200 + 40 + 3 + 100 = 343$$

$$400 + 80 + 6 =$$

$$100 + 50 + 50 + 9 =$$

$$300 + 50 + 100 + 2 =$$



۳ تفریق های زیر را با کمک جدول ارزش مکانی حل کن.

$$\begin{array}{r} 426 \\ - 145 \\ \hline \end{array}$$

	صدگان	دهگان	یکان
	4	2	6
-	1	4	5



۳ عزیزم، نام های دخترانه ی زیر را که نام گل هم هست، کامل کن.

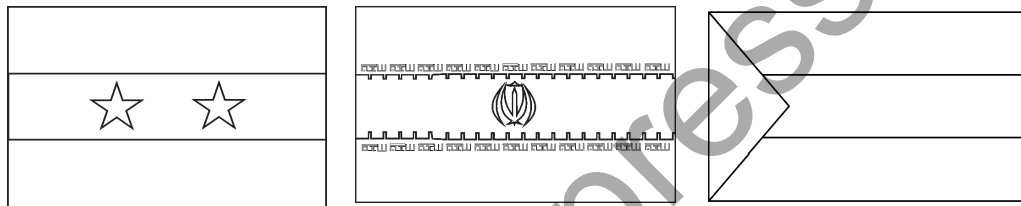
—	—	—	ل	—	ن	۱
—	—	—	ق	ش	۲	
—	س	و	س	۳		
س	—	—	۴			



خیلی خوب خوب قابل قبول نیاز به تلاش بیشتر



۱ گلم، از بین تصاویر زیر، تصویر پرچم کشورت را پیدا کن و رنگ بزن.





۲ دو تصویر زیر را با هم مقایسه کن و برای آن ها دو جمله بنویس.



آیا معنی کلمه ی شیر در دو جمله مانند هم است؟

۳ با توجه به تصاویر مانند نمونه کامل کن.



۴ کامل کن.



من اهل سبزوارم. پس به من می گویند:

اهل کجایی؟ پس به تو می گویند:





۴) مادر علی ۲۷ ساله بود که علی به دنیا آمد. الان علی ۲ سال دارد.

آن‌ها روی هم چند سال دارند؟ (زیر مسئله)

الف) سن اکنون مادر علی؟

ب) سن دو نفر روی هم؟

خیلی خوب خوب قابل قبول نیاز به تلاش بیشتر



علوم

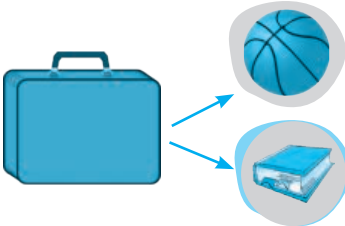
۱) کلمه، با توجه به شکل مواد زیر آن‌ها را دسته بندی کن.

لوبیا - نان - سرکه - شربت - آرد - روغن مایع - نخود - شکر - دوغ - آب میوه



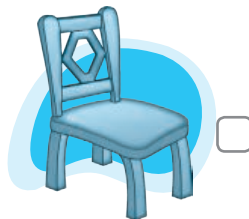
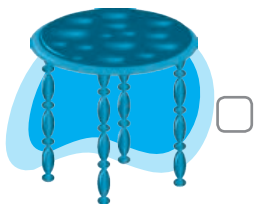
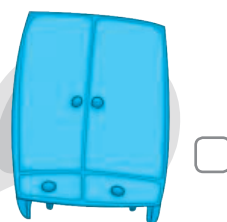
.....	جامد
.....	مایع

۲) عزیزم فکر می‌کنی در کیف زیر، کتاب جا می‌گیرد یا توپ بسکتبال؟ توضیح دهید؟



.....

۳) کدام یک از وسیله‌های زیر در یک اتاق جا می‌گیرند؟ علامت بزن.



۴) از سوال ۲ و ۳ نتیجه می‌گیریم که:

برخی از مواد جای و برخی از مواد جای می‌گیرند.

خیلی خوب خوب قابل قبول نیاز به تلاش بیشتر

